

# UNITATEA 3

## EPOCI ISTORICE, EVENIMENTE, PERSONALITĂȚI, LOCURI ISTORICE

## EPOCA MEDIEVALĂ 1. MOLDOVA ÎN TIMPUL LUI ȘTEFAN CEL MARE (1457–1504)




Fig. 1 – Suceava, Cetatea de Scaun a Moldovei

### ALBUM ISTORIC



Fig. 2 – Ștefan cel Mare



Fig. 3 – Mănăstirea Putna, ctitorie a domnitorului

### LUCREZ CU HARTA!

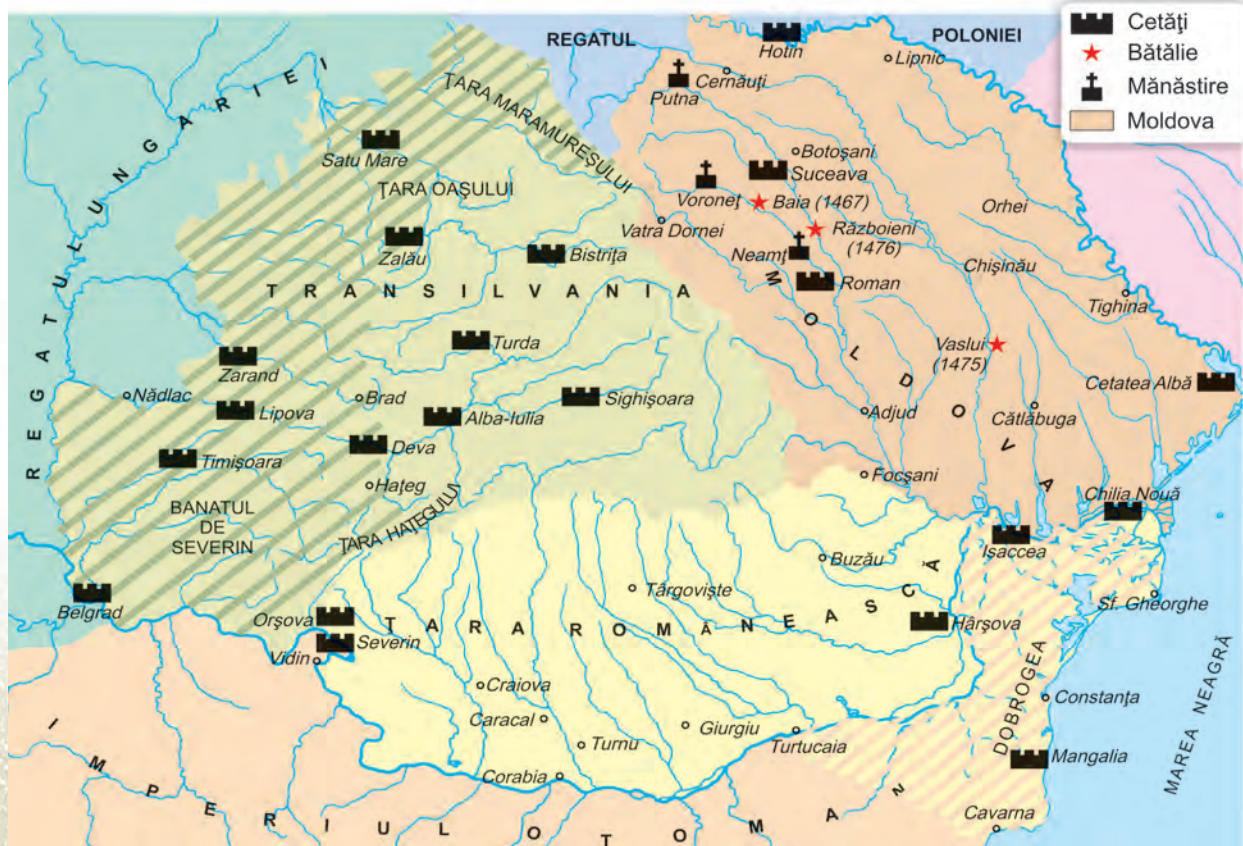


Fig. 4 – Moldova în vremea lui Ștefan cel Mare

## AM ÎNVĂȚAT!

---

---

---

---

---

---

---

---

---

---

## REFLECTEZ!

„Într-însul a găsit poporul românesc cea mai deplină și mai curată icoană a sufletului său.”

Nicolae Iorga (istoric)



Fig. 5 – Stema Moldovei, pe zidul Mănăstirii Putna

## APLIC!

1. Încercuiește, pe harta alăturată, denumirea cetății de scaun a Moldovei în vremea lui Ștefan cel Mare.

- Subliniază, cu roșu, locurile unde s-au desfășurat bătălii.

2. Grupează, în tabelul dat, următoarele denumiri: *Voroneț, Neamț, Baia, Putna, Războieni, Tazlău, Vaslui, Codrii Corvinului.*

Ctitorii	
Lupte	

3. Completează enunțurile cu informațiile potrivite.

Ștefan cel Mare a fost domnitorul \_\_\_\_\_ timp de \_\_\_\_\_ ani.

El a organizat țara pentru apărarea \_\_\_\_\_, a întărit cetățile \_\_\_\_\_, a înzestrat armata cu \_\_\_\_\_, a încheiat alianțe cu \_\_\_\_\_.

Cea mai strălucită victorie a sa împotriva turcilor a fost bătălia de la \_\_\_\_\_, din anul \_\_\_\_\_. Ștefan cel Mare a rămas în amintirea poporului ca un bun \_\_\_\_\_, iscusit \_\_\_\_\_, iubitor de \_\_\_\_\_, apărător al \_\_\_\_\_.

## 2. IANCU DE HUNEDOARA, VOIEVOD AL TRANSILVANIEI (1441–1456)

### ALBUM ISTORIC



Fig. 1 – Iancu de Hunedoara



Fig. 2 – Catedrala catolică din Alba Iulia



Fig. 3 – Castelul Huniazilor, numit și al Corvinilor

### LUCREZ CU HARTA!



Fig. 4 – Țările Române în secolul al XV-lea

## AM ÎNVĂȚAT!

## REFLECTEZ!

„S-a stins lumina lumii.“

Inscripție pe piatra de mormânt  
a voievodului Iancu de Hunedoara



Fig. 5 – Pecetea lui  
Iancu de Hunedoara

## APLIC!

1. Colorează, pe harta alăturată:

- cu roșu, cerculețul din dreptul localității în care se află castelul Corvinilor;
- cu verde, cerculețul din dreptul localității unde se află mormântul lui Iancu de Hunedoara;
- cu albastru, cerculețul din dreptul localității unde voievodul a obținut o mare victorie împotriva turcilor.

2. Încercuiește varianta corectă de răspuns.

a) Iancu de Hunedoara era un nobil:

- român;
- ungar;
- turc.

b) Datorită calităților sale militare, el a fost numit:

- rege al Ungariei;
- voievod al Transilvaniei;
- sultan.

c) Iancu de Hunedoara a organizat:

- campanii de cucerire;
- alianțe cu Imperiul Otoman;
- frontul antiotoman.

d) Cea mai mare victorie a sa a obținut-o în lupta de la:

- Belgrad;
- Varna;
- Ialomița.

### 3. TRANSILVANIA – SPAȚIU MULTIETNIC SAT ȘI ORAȘ MEDIEVAL DESPRE PERSONALITĂȚI ALE MINORITĂȚILOR

#### ALBUM ISTORIC



Fig. 1 – Boier



Fig. 2 – Țăran muncind la câmp



Fig. 3 – Cetatea Râșnov

#### LUCREZ CU HARTA!



Fig. 4 – Țările Române – orașe medievale

## AM ÎNVĂȚAT!

## REFLECTEZ!

„– Lăsăm în urma noastră pe fiii și pe nepoții noștri, pe toți asuprașii acestui pământ.

Și va veni vremea ca nicio lacrimă să nu mai ude pământul acesta strămoșesc!”

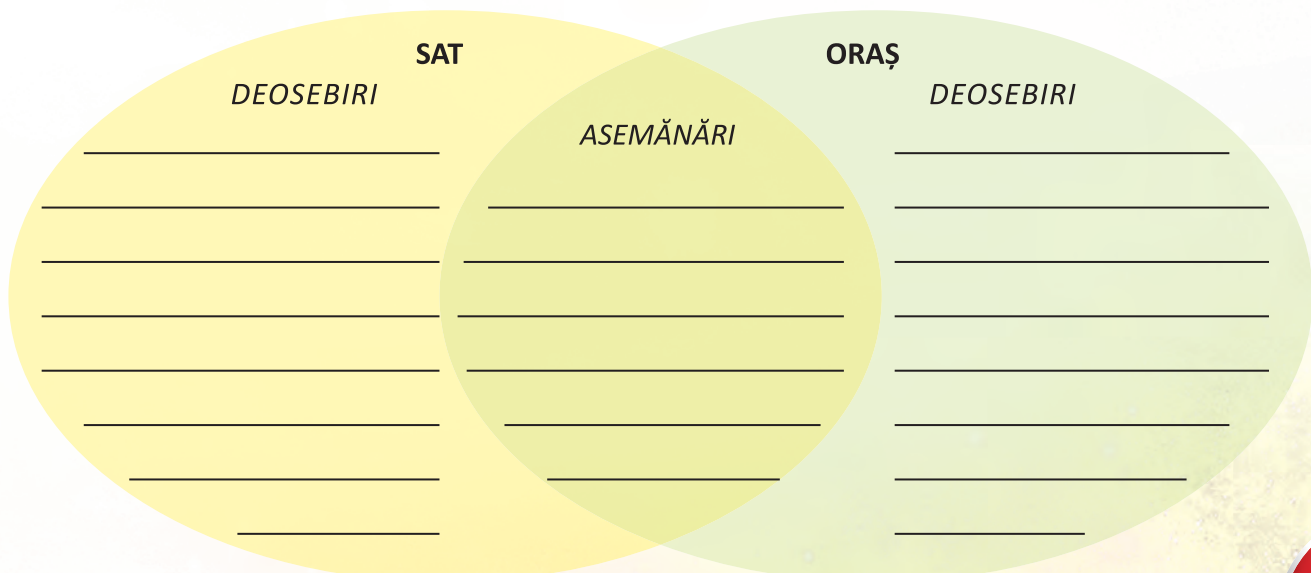
Mihai Drumeș (scriitor),  
despre o răscoală din Transilvania

## APLIC!

1. Grupează, în tabelul dat, numele orașelor medievale, folosind harta alăturată.

Țara Românească	Moldova	Transilvania

2. Notează asemănări și deosebiri între satul și orașul medieval românesc.



# EPOCA MODERNĂ

## 4. ALEXANDRU I. CUZA (1859–1866) ȘI UNIREA PRINCIPATELOR ROMÂNE



### ALBUM ISTORIC



Fig. 1 – Alexandru Ioan Cuza



Fig. 2 – Mihail Kogălniceanu,  
prim-ministru în timpul  
domniei lui Cuza



Fig. 3 – Stema Principatelor  
Române Unite

### LUCREZ CU HARTA!

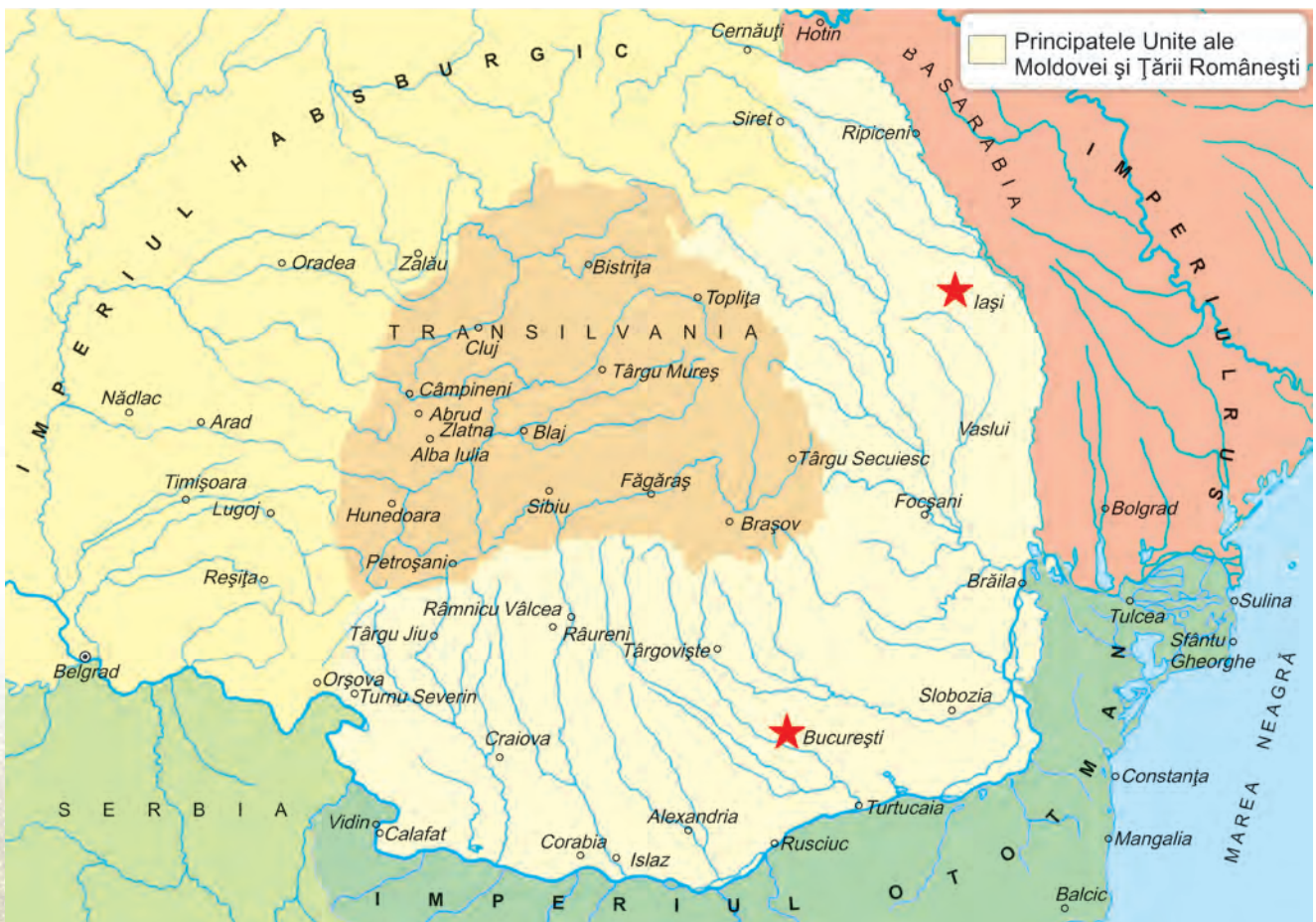


Fig. 4 – Principatele Române Unite

## AM ÎNVĂȚAT!

## REFLECTEZ!

„Unde-i unul, nu-i putere  
La nevoi și la durere.  
Unde-s doi, puterea crește  
Și dușmanul nu sporește!”

Vasile Alecsandri, *Hora Unirii*



Fig. 5 – Proclamarea Unirii Moldovei cu Țara Românească (pictură de Theodor Aman)

## APLIC!

1. Subliniază, pe harta alăturată, denumirile orașelor în care Alexandru Ioan Cuza a fost ales ca domn.

- Scrie, sub fiecare denumire, data alegerii sale ca domn.
- Încercuiește capitala Principatelor Unite.

2. Încercuiește varianta corectă de răspuns.

a) Unirea Moldovei cu Țara Românească s-a împlinit în anul:

- 1848;                      • 1859;                      • 1918.

b) Primul domn al Principatelor Unite a fost:

- Alexandru Ioan Cuza;      • Mihail Kogălniceanu;      • Nicolae Bălcescu.

c) Din 1862, noul stat s-a numit:

- Principatele Unite;      • Țările Române;      • România.

3. Ordonează cronologic următoarele evenimente, numerotând în casete.

- Aplicarea reformelor;
- Dubla alegere ca domn în Țara Românească și Moldova;
- Abdicarea lui Alexandru Ioan Cuza;
- Constituirea adunărilor ad-hoc.