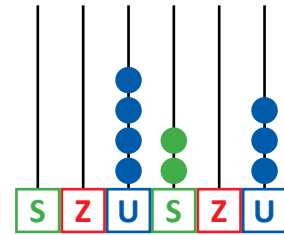
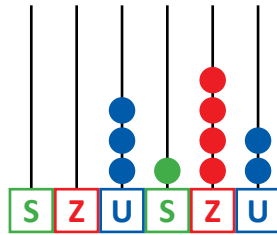
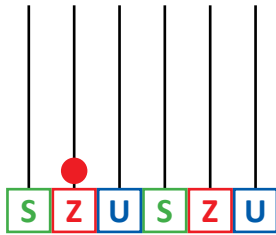


# TEST 1

## NUMERE NATURALE DE LA 0 LA 10 000

1 Unește fiecare numărătoare cu numărul corespunzător.



4 203

3 142

10 000

1 000 000

2 Se dau numerele: 7 239 9 000 2 783 3 002

a. Scrie numerele în ordine crescătoare.

b. Compară numerele pare. \_\_\_\_\_

c. Compară numerele impare. \_\_\_\_\_

d. Scrie predecesorul și succesul celui mai mare dintre numere.

3 Colorează etichetele numerelor care se pot rotunji la 5 000.

3 600

2 100

4 902

5 005

4 980

4 920

5 030

4 Scrie numerele date conform cerințelor de mai jos.

a. cu cifre

• trei mii cinci sute nouă

• șapte mii șapte

b. cu litere

• 10 000

• 8 019

c. cu cifre romane

• 21

14



• secolul al nouăsprezecelea

5 Descoperă:

a. cel mai mare număr scris cu patru cifre care are cifra sutelor 7 și cifra unităților 1;

b. cel mai mic număr format din patru cifre consecutive.



## TEST 2

### FORMAREA, CITIREA, SCRIEREA NUMERELOR NATURALE DE LA 0 LA 1 000 000

1 Unește etichetele pe care sunt scrise aceleași numere.

patruzeci și trei de mii  
nouăsprezece

două sute cincisprezece  
mii șapte sute

o sută cinci mii patru  
sute nouăzeci

215 700

105 490

43 019

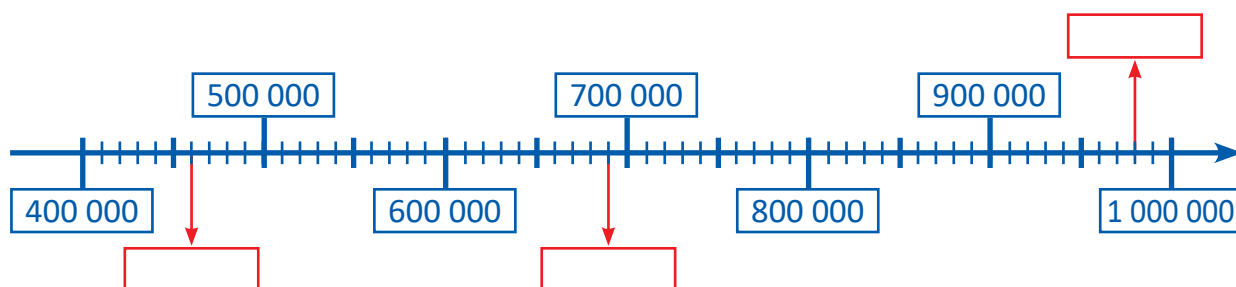
2 Scrie cu cifre numerele:

a. două sute patru mii cinci sute nouăzeci;

b. treizeci și trei de mii șaptesprezece;

c. două sute treizeci și opt de mii cinci sute.

3 Completează casetele cu numerele corespunzătoare marcajelor de pe axă.



4 Scrie numerele următoare ca sumă de produse, după model.

$$14\,750 = 1 \times 10\,000 + 4 \times 1\,000 + 7 \times 100 + 5 \times 10$$

a. 16 876 =

b. 25 923 =

c. 403 207 =

5 Scrie:

a. trei numere pare cuprinse între 4 398 și 6 826;

b. trei numere impare mai mari decât 28 192 și mai mici decât 28 600;

c. trei numere pare mai mici decât 1 000 000, dar mai mari decât 999 950.



# TEST 3

## COMPARAREA ȘI ORDONAREA NUMERELOR NATURALE DE LA 0 LA 1 000 000

**1** Scrie numerele:

a. de la 37 897 până la 37 903;

b. mai mari decât 14 975, dar mai mici decât 14 982;

c. mai mici decât 296 893, dar mai mari decât 296 884.

**2** Compară numerele din fiecare pereche folosind semnele  $<$ ,  $>$ ,  $=$ .

a. 347 526  199 906  
600 000  599 999

b. 749 245  749 345  
243 000  234 000

c. 25 287  25 287  
123 222  321 222

**3** Rotunjește numărul 53 280 la:

a. sute;

b. mii;

c. zeci de mii.

**4** Încercuiește numărul format numai din mii, cel mai apropiat de numărul dat.

	6 000		16 000		200 000
a.	<input checked="" type="checkbox"/> 5 421	<input type="checkbox"/> 5 000	b.	<input checked="" type="checkbox"/> 16 513	<input type="checkbox"/> 17 000
	<input type="checkbox"/> 4 000			<input checked="" type="checkbox"/> 231 113	<input type="checkbox"/> 300 000
				<input type="checkbox"/> 18 000	<input type="checkbox"/> 400 000

**5** Folosind toate cifrele de pe cartonașe, scrie câte două numere:

a. mai mari decât 654 237;

b. mai mici decât 457 362;

c. cuprinse între 350 000 și 400 000;

d. mai mari decât 600 000, dar mai mici decât 654 000.



# TEST 4

## CIFRELE ROMANE

1 Unește etichetele a căror scriere reprezintă același număr.

XCVII

DCXV

XLIX

MMXXII

XXIV

MCMLIII

49

2022

24

1953

615

97

2 Scrie cu cifre romane numerele:

99

1 979

2 000

2 012


3 Scrie cu cifre romane:

a. numerele corespunzătoare lunilor anotimpului vara;

b. numerele cuprinse între 39 și 50;

c. numerele de la 1 549 la 1 555.

4 Alege varianta corectă pentru ora indicată de fiecare ceas.



6:30

6:45



15:55

15:00



17:30

16:35

5 Scrie cel puțin câte două numere folosind cifrele romane date.

a. M, C, X; \_\_\_\_\_

b. D, L, X; \_\_\_\_\_

c. M, D, C. \_\_\_\_\_





# TEST 5


## CIFRELE ROMANE

1 Compară următoarele numere scrise cu cifre romane folosind semnele <, >, =.

a. MML  MCMIV  
CML  MCL

b. MCMLIII  MMVI  
MM  MDCLXI

c. CCCLX  DLV  
LXXII  XLV



2 Scrie cu cifre arabe:

a. LXXXIV; CCLXIII;

b. MM; DC;

c. MMXXII; MCMXXX.

3 Calculează:

a. MCML + MC =

b. MMXXII - LXIX =

c. CCXC + DCL + ML =

4 Scrie în ordine crescătoare numerele:

MMDXLV	CLIV	CCCXLVI	XXXIX	MD
<input type="text"/>	<input type="text"/>	<input type="text"/>	<input type="text"/>	<input type="text"/>

5 Stabilește legătura între fiecare eveniment și anul în care a avut loc.

MCMXVIII	MDCCCL	MDCCCLIX	MDCCCLXXXI
Anul nașterii lui Mihai Eminescu	Unirea Transilvaniei cu România	Anul nașterii lui George Enescu	Mica Unire
1 918	1 850	1 859	1 881



# TEST 6

## TEST SUMATIV

1 Scrie numerele date:

a. cu cifre;

- șapte sute nouăzeci de mii nouă

\_\_\_\_\_

\_\_\_\_\_

b. cu litere;

- 63 121

\_\_\_\_\_

\_\_\_\_\_

c. cu cifre romane.

- 1 709

\_\_\_\_\_

\_\_\_\_\_



2 Scrie succesorul și predecesorul fiecăruia dintre numerele de mai jos.

a.  29 009       b.  499 999

c.  100 000

3 Colorează casetele numerelor care se rotunjesc la 4 000.

4 013    4 795    4 100    4 135    4 679

3 997    3 411    4 009

4 Scrie câte trei numere de 5 cifre, în care acestea să fie:

a. identice;           

b. numere consecutive;           

c. numere pare.           

5 Descoperă mesajul, ordonând crescător numerele scrise pe cupe.


\_\_\_\_\_

