


7+

ȘI TU POTI SĂ FII CAMPION LA MATEMATICĂ!



Redactare: Maria-Magdalena Trandafir
Tehnoredactare & DTP copertă: Mariana Dumitru
Pregătire de tipar: Marius Badea

Descrierea CIP a Bibliotecii Naționale a României
Și tu poți să fii campion la matematică : 7+. - Pitești : Paralela 45, 2020
ISBN 978-973-47-3222-7

37

COMENZI – CARTEA PRIN POȘTĂ

EDITURA PARALELA 45

Bulevardul Republicii, Nr. 148, Clădirea C1, etaj 4, Pitești,
jud. Argeș, cod 110177

Tel.: 0248 633 130; 0753 040 444; 0721 247 918

Tel./fax: 0248 214 533; 0248 631 439; 0248 631 492

E-mail: comenzi@edituraparelela45.ro

www.edituraparelela45.ro

Tiparul executat la **EVEREST** 
: TIPOGRAFIA

Deviens champion en mathématiques 7+

www.ballonmedia.com

© 2019 Ballon Media sa, Belgique
F. Rooseveltplaats 12, B-2060 Anvers

Tous droits réservés

Illustrations : 123rf.com ; couverture : Belinda Chen

Le contenu a été partiellement adapté et réimprimé
avec la permission de Teacher Created Materials.

Copyright © Editura Paralela 45, 2020

Prezenta lucrare folosește denumiri ce constituie mărci înregistrate,
iar conținutul este protejat de legislația privind dreptul de proprietate intelectuală.
www.edituraparelela45.ro

CE VEI GĂSI ÎN ACEASTĂ CARTE?

POȚI SĂ FII MAI BUN!

Această carte conține peste 300 de activități: adunări, scăderi, înmulțiri, împărțiri, descoperirea formelor, citirea ceasului etc. Ele sunt distractive și vin în completarea noțiunilor care se învață la școală.

TIPURI DE ACTIVITĂȚI


Pe fiecare pagină sunt câte opt activități. Fiecare pune accentul pe ceva anume: de la cunoașterea numerelor la operații matematice, trecând printr-o serie de probleme simple.

TEMĂ	REALIZĂRILE COPILULUI
1 CUNOAȘTEREA NUMERELOR	Va aprecia valoarea numerelor de la 0 la 100 și relațiile dintre ele (plus, minus, înainte, după, primul, al doilea etc.). Va fi capabil să rezolve corect operații cu numere formate din unități, zeci și sute.
2 ADUNARE ȘI SCĂDERE	Va efectua operații simple de adunare, scădere, înmulțire și împărțire. Va reuși să crească sau să scadă cantitățile și va recunoaște lipsa ori surplusul.
3 ÎNMULȚIRE ȘI ÎMPĂRȚIRE	Va efectua operații simple de adunare, scădere, înmulțire și împărțire. Va reuși să crească sau să scadă cantitățile și va recunoaște lipsa ori surplusul.
4 SERII LOGICE	Va completa corect seriile logice. Va indica numerele/simbolurile matematice care lipsesc din operații și din jocurile cu numere. Va identifica operațiile cu același rezultat.
5 GEOMETRIE	Va putea spune dacă un obiect se găsește în față, în spate, la stânga sau la dreapta față de altul. Va exemplifica următoarele noțiuni: primul, ultimul și la mijloc. Va recunoaște figurile plane, dar și pe cele în spațiu.
6 UNITĂȚI DE MĂSURĂ ȘI OPERAȚII CU UNITĂȚI DE MĂSURĂ	Va descoperi lungimea, masa și timpul. Va aprecia dacă un lucru este mai mic sau mai mare față de altul, mai greu sau mai ușor etc. Va identifica instrumentul de măsură de care are nevoie, în funcție de situație. Va citi corect ora indicată de ceas.
7 TABELE ȘI GRAFICE	Va afla ce sunt tabelele și graficele și va putea citi, structura și interpreta date simple.
8 LOGICĂ	Va aplica noțiunile din alte domenii în rezolvarea unor probleme simple.

CORECT SAU GREȘIT

Alături de fiecare serie de activități se află câte un tabel cu 2 tipuri de recompense.

1. Rezolvă activitățile de pe fiecare pagină.
2. Compară-ți răspunsurile cu cele de la finalul cărții, din tabelul mare.
3. Pentru răspunsul GREȘIT colorează ☹️, iar pentru cel CORECT colorează 😊.
4. Apoi fă totalul răspunsurilor corecte și scrie rezultatul în locul special, de pe fiecare pagină.



RĂSPUNS

1. 😊 😐

2. 😊 😐

3. 😊 😐

4. 😊 😐

5. 😊 😐

6. 😊 😐

7. 😊 😐

8. 😊 😐

/8

Total

1. Numără stelulele.


 de stelule

2. Câte dulciuri sunt în total?


 dulciuri

3. Efectuează înmulțirea!

$$3 \times 5 = \text{$$

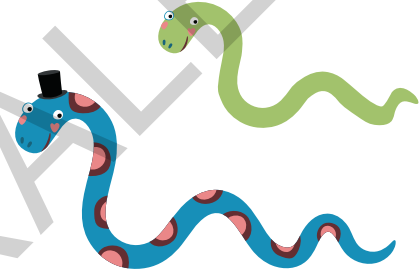
4. Completează căsuța cu termenul corespunzător.

$$15 + \text{$$

5. Colorează cercul.



6. Încercuiește șarpele mai lung.



7. Câte pahare sunt? Dar felii de lămâie? Trasează pentru fiecare numărul corespunzător de liniuțe.



pahare	<input type="text"/>
felii de lămâie	<input type="text"/>

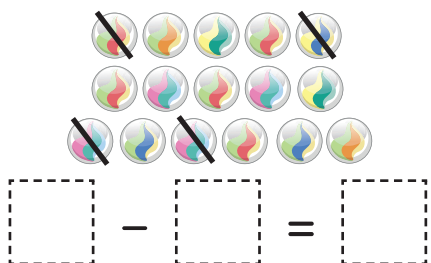
8. Încercuiește rândul pe care sunt cele mai puține mașini.



1. Ce numere se află înainte și după 43?

ÎNAINTE	NUMĂR	DUPĂ
	43	

2. Câte bile rămân? Efectuează operația de scădere în căsuțele de mai jos.



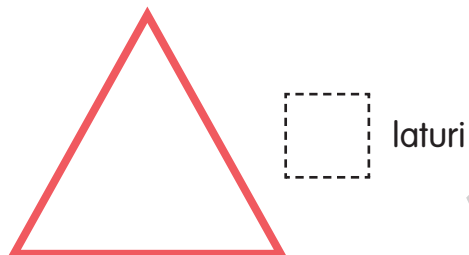
3. Efectuează împărțirea!

$$4 : 2 = \square$$


4. Privește cu atenție seria logică, apoi desenează în spațiile libere figurile geometrice corespunzătoare.



5. Câte laturi are această figură geometrică?



6. Cât este ora?



Este ora

7. Câți elevi preferă lectura? Scrie răspunsul pe linia punctată.

ACTIVITATE PREFERATĂ	
JOCURI VIDEO	
LECTURĂ	
JOCURI DE SOCIETATE	

.....

8. Nora are 4 biscuiți, din care mănâncă doi. Câți biscuiți îi mai rămân?



RĂSPUNS

1. 😊 😐

2. 😊 😐

3. 😊 😐

4. 😊 😐

5. 😊 😐

6. 😊 😐

7. 😊 😐

8. 😊 😐


/8

Total

1. Încercuiește numărul mai mic.

68 72

2. Câte lame rămân? Efectuează operația de scădere în căsuțele de mai jos.



$$\boxed{} - \boxed{} = \boxed{}$$

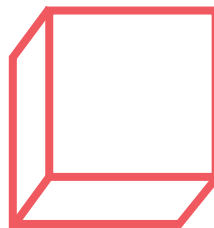
3. Efectuează înmulțirea.

$$10 \times 4 = \boxed{}$$


4. Privește cu atenție seria logică, apoi scrie în spațiile libere literele corespunzătoare.

A B B A B _____


5. Taie cu o linie cuvântul greșit. Figura geometrică de mai jos este un cub / o sferă.





6. Încercuiește vasul în care se află mai multă apă.



7. Trasează atâtea liniuțe câți pești din fiecare fel sunt.



	<input type="text"/>
	<input type="text"/>

8. Încercuiește șirurile care au aceeași lungime.



RĂSPUNS

1. 😊 😞

2. 😊 😞

3. 😊 😞

4. 😊 😞

5. 😊 😞

6. 😊 😞

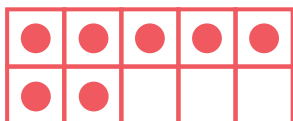
7. 😊 😞

8. 😊 😞

/8

Total

1. Câte puncte mai trebuie desenate pentru a fi zece în total?



puncte

2. Efectuează scăderea!

$$29 - 3 = \boxed{}$$

3. Efectuează înmulțirea!

$$\begin{array}{r} 9 \times \\ 4 \\ \hline \end{array}$$

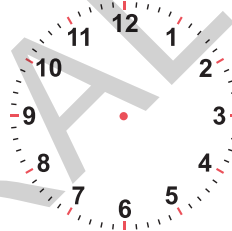
4. Colorează operațiile al căror rezultat este 12.

$10 - 4$	$15 : 3$
$8 + 4$	4×3

5. Desenează un X în fiecare unghi al acestui dreptunghi.



6. Trasează acele ceasului știind că este ora unu.



7. Cum ajung la școală cei mai mulți copii? Scrie răspunsul pe linia punctată.

CU BICICLETA	CU AUTOBUZUL	PE JOS
2	10	7

.....

8. Mina primește o temă pe care trebuie să o predea în ultima zi de școală din săptămână. În ce zi trebuie Mina să predea tema? Scrie răspunsul pe linia punctată.

.....

RĂSPUNS

1. 😊 😐

2. 😊 😐

3. 😊 😐

4. 😊 😐

5. 😊 😐

6. 😊 😐










7. 😊 😐

8. 😊 😐

/8

Total

Soluții

p.	1.	2.	3.	4.	5.	6.	7.	8.
4	24 de steluțe	6 dulciuri	15	5		șarpele albastru	pahare: lămâi:	rândul cu 2 mașini
5	60	14 pere	28	10+30 20+20 40+0	4 laturi	pantalonii din stânga	3 creioane albastre	11 flori
6	10 pătrate	14	8	x		pisica	6 elevi	1. Mihai 2. Sara 3. Lia
7	42; 44	16-4=12	2		3 laturi	ora 4 și jumătate	8 elevi	2 biscuiți
8	29	15-3=12	12	2+8; 20:2; 2x5	înghețata	broasca din dreapta	1 medalie	8 ani
9	7	6-2=4	7	8		lungă cât 3 creioane	pisici: câței:	1; 4; 7
10	5 cercuri	5+4=9	2	-		DA	5 copii	ianuarie
11	68	7-4=3	40	B A	Se taie „o sferă”	acvariul	galbeni: albaștri:	rândul negru și rândul roșu
12	18 picături de ploaie	6+3=9	2	12	0 unghiuri	ora 11	5 goluri	89
13	29; 31	6+4=10	20	20+12; 22+10; 0+32	curbă	elefantul	fete	Sam: albastru Eliza: roșu
14	10	26	4	6		ora 12 și jumătate	5 copii	9 păsărele
15	44	44	5		în stânga	NU	pisici: 1 câței: 3 păsări: 2	31, 32, 33, 34
16	10 cuburi	9-5=4	3	5	cubul	februarie	paste: 4; pizza: 6	2 copii
17	21	12	3			balonul	3 copii	8 bile