


6+

ȘI TU POTI SĂ FII CAMPION LA MATEMATICĂ!



Editura Paralela 45

Redactare: Maria-Magdalena Trandafir
Tehnoredactare & DTP copertă: Mariana Dumitru
Pregătire de tipar: Marius Badea

Descrierea CIP a Bibliotecii Naționale a României
Și tu poți să fii campion la matematică : 6+. - Pitești : Paralela 45, 2020
ISBN 978-973-47-3221-0

37

COMENZI – CARTEA PRIN POȘTĂ

EDITURA PARALELA 45

Bulevardul Republicii, Nr. 148, Clădirea C1, etaj 4, Pitești,
jud. Argeș, cod 110177

Tel.: 0248 633 130; 0753 040 444; 0721 247 918

Tel./fax: 0248 214 533; 0248 631 439; 0248 631 492

E-mail: comenzi@edituraparelela45.ro

www.edituraparelela45.ro

Tiparul executat la  EVEREST
: TIPOGRAFIA

Deviens champion en mathématiques 6+

www.ballonmedia.com

© 2019 Ballon Media sa, Belgique
F. Rooseveltplaats 12, B-2060 Anvers

Tous droits réservés

Illustrations : 123rf.com ; couverture : Belinda Chen

Le contenu a été partiellement adapté et réimprimé
avec la permission de Teacher Created Materials.

Copyright © Editura Paralela 45, 2020

Prezenta lucrare folosește denumiri ce constituie mărci înregistrate,
iar conținutul este protejat de legislația privind dreptul de proprietate intelectuală.
www.edituraparelela45.ro

CE VEI GĂSI ÎN ACEASTĂ CARTE?

POȚI SĂ FII MAI BUN!

Această carte conține 250 de activități: adunări, scăderi, descoperirea formelor, citirea ceasului etc. Ele sunt distractive și vin în completarea noțiunilor care se învață la școală.

TIPURI DE ACTIVITĂȚI


Pe fiecare pagină sunt câte șase activități. Fiecare pune accentul pe ceva anume: de la cunoașterea numerelor la operații matematice, trecând printr-o serie de probleme simple.

TEMĂ	REALIZĂRILE COPILULUI
1 CUNOAȘTEREA NUMERELOR	Va aprecia valoarea numerelor de la 0 la 20 și relațiile dintre ele (plus, minus, înainte, după, primul, al doilea etc.).
2 ADUNARE ȘI SCĂDERE	Va efectua operații simple – adunarea și scăderea. Va reuși să crească sau să scadă cantitățile și va recunoaște lipsa ori surplusul.
3 SERII LOGICE	Va identifica un șir logic dintr-o serie pentru ca apoi să-l continue.
4 UNITĂȚI DE MĂSURĂ ȘI OPERAȚII CU UNITĂȚI DE MĂSURĂ	Va descoperi lungimea, masa și timpul. Va putea aprecia dacă un lucru este mai mic sau mai mare față de altul, mai greu sau mai ușor etc. Va identifica instrumentul de măsură de care are nevoie, în funcție de situație, și va citi ceasul.
5 GEOMETRIE	Va putea spune dacă un obiect se găsește în față, în spate, la stânga sau la dreapta față de altul. Va exemplifica următoarele noțiuni: primul, ultimul și la mijloc. Va descoperi figurile plane, dar și pe cele în spațiu.
6 LOGICĂ	Va aplica noțiunile din alte domenii în rezolvarea unor probleme simple.

CORECT SAU GREȘIT?

Alături de fiecare serie de activități se află câte un tabel cu 2 tipuri de recompense.

1. Rezolvă activitățile de pe fiecare pagină.
2. Compară-ți răspunsurile cu cele de la finalul cărții, din tabelul mare.
3. Pentru răspunsul GREȘIT colorează ☹️, iar pentru cel CORECT colorează 😊.
4. Apoi fă totalul răspunsurilor corecte și scrie rezultatul în locul special, de pe fiecare pagină.



RĂSPUNS

1. 😊 😐

2. 😊 😐

3. 😊 😐

4. 😊 😐


5. 😊 😐

6. 😊 😐



/6

Total

1. Colorează trei stegulețe.


2. Câte stelute sunt în total?
Scrie răspunsul în căsuță.3. Privește cu atenție seria logică.
Cu care dintre cele două figuri
geometrice de mai jos trebuie
completat șirul? Încercuiește-o
pe cea potrivită!

4. Colorează animalul mai mic.

5. Care figură geometrică are
aceeași formă cu cornetul
de înghețată? Încercuiește-o!6. Desenează 4 petale pentru
această floare.

1. Desenează trei cercuri.

4. Cât este ora?



Este ora .

RĂSPUNS

1. 😊 😐

2. 😊 😐


3. 😊 😐

4. 😊 😐

5. 😊 😐

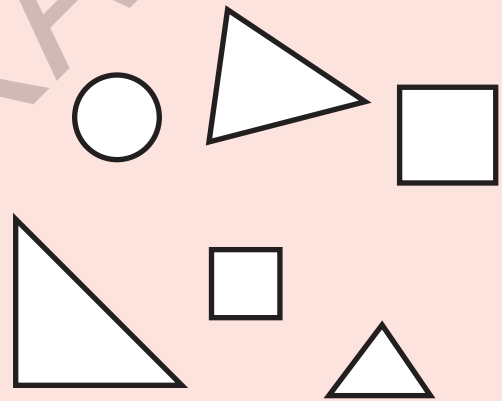
6. 😊 😐

2. Câți fluturași sunt în total?
Efectuează operația de adunare
în căsuțele de mai jos.



$$\boxed{} + \boxed{} = \boxed{}$$

5. Colorează triunghiurile.



3. Privește cu atenție seria logică de mai jos, apoi completează căsuța cu litera corespunzătoare.

O P O P O

6. Câte picioare au în total
aceste două scaune?
Scrie răspunsul în căsuță.



picioare

/6

Total

1. Câte flori sunt? Încercuiește răspunsul corect.




14

15


16

2. Câte felii de pepene sunt? Efectuează operația de adunare în căsuțele de mai jos.



$$\square + \square = \square$$

3. Privește cu atenție seria logică. Cu ce culoare trebuie să trasezi conturul ultimului cerculeț?




4. Ce zi urmează după joi?

miercuri

vineri

5. Care figură geometrică seamănă cu sticla de lapte? Colorează-o pe cea potrivită!



6. Încercuiește copilul din mijloc.



RĂSPUNS

1. 😊 😐

2. 😊 😐

3. 😊 😐

4. 😊 😐








5. 😊 😐

6. 😊 😐

/6

Total

Soluții

p.	1.	2.	3.	4.	5.	6.
4	3 stegulețe colorate	3 steluțe		șoarecele	conul	floare cu patru petale
5	acvariul din dreapta	4 mere		4 dreptunghiuri	se taie „un cerc”	7 inimi
6	da	5 baloane		marți	sus	3 biscuiți
7	3 cercuri	3		cântar	se taie „dreptunghiulară”	adaugi 3 buline
8	4 mere colorate	5	2	cartea	3 cercuri colorate	4 pești
9	lama	3	B	ora 5	cubul	4 omizi
10	desenezi 2 șerpi	6	verde	înalt cât 4 pătrate	adevărat	3 cercuri albastre
11	9 picături de ploaie	5		camionul	închisă	0 lăcuste
12	3 cercuri	$5+2=7$	P	Este ora 8.	3 triunghiuri colorate	8 picioare
13	10	4 pești		lung cât 4 agrafe	în dreapta	2 frunze
14	norul din dreapta	2 gărgărițe	E	bărbatul	se taie „departe”	desenezi 4 nori
15	15 flori	$2+2=4$	Ultimul cerc este roșu.	vineri	cilindrul	copilul cu tricou roșu
16	gărgărița din dreapta	$1+2=3$	soare	în coș	nu	desenezi 2 cercuri
17	12	$2+2=4$		înalt cât 6 pătrate	cercul	5 cochilii